

第7回 多変数関数の積分(3)

今回のポイント

多重積分の応用

1. 体積
2. 曲面積

5.4 重積分の応用

重積分を用いた立体の体積や曲面の面積を求める方法を学ぶ。

➤ 平面図形の面積

例 11

楕円 $\frac{x^2}{a^2} + \frac{y^2}{b^2} = 1$ で囲まれる図形の面積を求める

$x = ar \cos \theta$, $y = br \sin \theta$ とおくと、 $0 \leq r \leq 1$, $0 \leq \theta \leq 2\pi$ で、

$$|J| = \begin{vmatrix} a \cos \theta & -ar \sin \theta \\ b \sin \theta & br \cos \theta \end{vmatrix} = |abr \cos^2 \theta + abr \sin^2 \theta| = |abr| = abr$$

であるから、

$$|D| = \iint_D dx dy = ab \int_0^1 r dr \int_0^{2\pi} d\theta = \underline{\underline{\pi ab}}$$

となる。

例 12

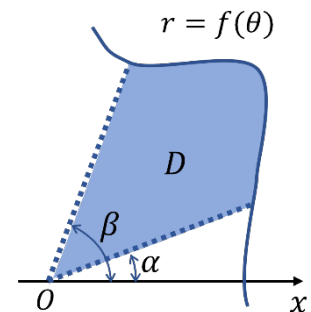
極座標で表された曲線 $r = f(\theta)$ と半直線 ($\theta = \alpha$, $\theta = \beta$) で囲まれた右のような図形 D の面積を求める

$x = r \cos \theta$, $y = r \sin \theta$ とおくと、 $0 \leq r \leq f(\theta)$, $\alpha \leq \theta \leq \beta$

あるから、

$$|D| = \iint_D dx dy = \int_{\alpha}^{\beta} d\theta \int_0^{f(\theta)} r dr = \underline{\underline{\frac{1}{2} \int_{\alpha}^{\beta} \{f(\theta)\}^2 d\theta}}$$

となる。



➤ 立体の体積

例 13

次の立体の体積を求めよ。

- (1) 球 $x^2 + y^2 + z^2 \leq a^2$ ($a > 0$)

$D = \{(x, y, z) \mid x^2 + y^2 + z^2 \leq a^2\}$ に対して

$x = r \sin \theta \cos \varphi$, $y = r \sin \theta \sin \varphi$, $z = r \cos \theta$ と極座標変換すると、 xyz 空間の領域 D と $r\theta\varphi$ 空間の領域 $E = \{(r, \theta, \varphi) \mid 0 \leq r \leq a, 0 \leq \theta \leq \pi, 0 \leq \varphi \leq 2\pi\}$ と対応する。

$$\begin{aligned} |D| &= \iiint_D dx dy dz = \iiint_E r^2 \sin \theta dr d\theta d\varphi = \int_0^a r^2 dr \int_0^\pi \sin \theta d\theta \int_0^{2\pi} d\varphi \\ &= 2\pi \left[\frac{r^3}{3} \right]_0^a [-\cos \theta]_0^\pi = \underline{\underline{\frac{4}{3}\pi a^3}} \end{aligned}$$

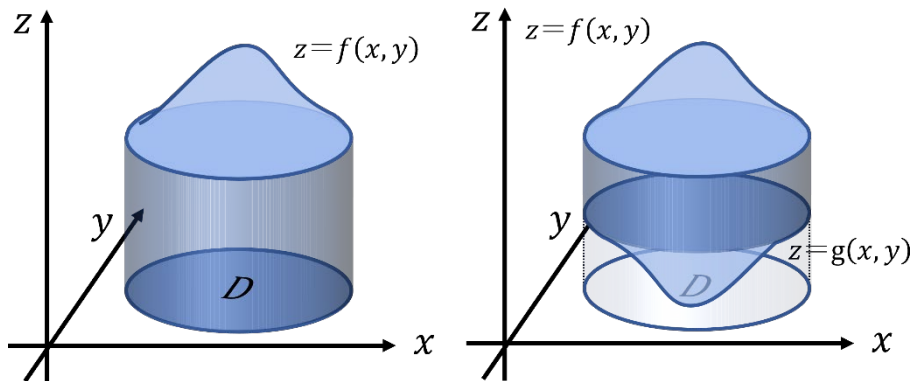
- (2) 楕円体 $D: \frac{x^2}{a^2} + \frac{y^2}{b^2} + \frac{z^2}{c^2} \leq 1$

$D = \{(x, y, z) \mid \frac{x^2}{a^2} + \frac{y^2}{b^2} + \frac{z^2}{c^2} \leq 1\}$ に対して

$x = au$, $y = bv$, $z = cw$ と変換すると、 xyz 空間の領域 D と uvw 空間の領域 $E = \{(u, v, w) \mid u^2 + v^2 + w^2 \leq 1\}$ と対応し、 $J = abc$ である。(1)を用いれば、

$$|D| = \underline{\underline{\frac{4}{3}\pi abc}}$$

柱状の立体 K の体積 V



$$K: 0 \leq z \leq f(x, y), (x, y) \in D$$

$$K: g(x, y) \leq z \leq f(x, y), (x, y) \in D$$

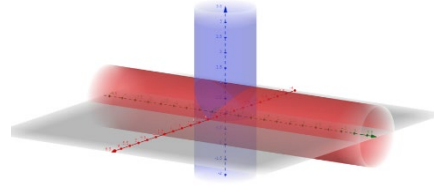
$$V = \iint_D f(x, y) dx dy$$

$$V = \iint_D \{f(x, y) - g(x, y)\} dx dy$$

立体の体積を求めるときは対称性に注意して、+ (プラス) になる部分の何倍になるかを考える

例 14

2つの円柱 $x^2 + y^2 \leq a^2$, $x^2 + z^2 \leq a^2$ の共通部分の体積 V を求めよ。



$x \geq 0, y \geq 0, z \geq 0$ の部分のみの体積を求めて 8 倍する。

$x^2 + z^2 \leq a^2$ から $z = \sqrt{a^2 - x^2}$ として、これを $D = \{(x, y) \mid x^2 + y^2 \leq a^2, x \geq 0, y \geq 0\}$ において積分すればいいので、

$$\begin{aligned} V &= 8 \int_0^a dx \int_0^{\sqrt{a^2 - x^2}} \sqrt{a^2 - x^2} dy \\ &= 8 \int_0^a (a^2 - x^2) dx = \underline{\underline{\frac{16}{3} a^3}} \end{aligned}$$

例 15

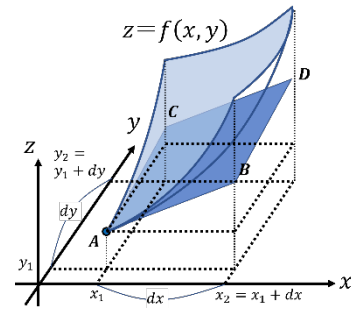
$D = \{(x, y) \mid a \leq x \leq b, 0 \leq y \leq f(x)\}$ を x 軸のまわりに回転した回転体の体積 V を求めよ。
 $y \geq 0, z \geq 0$ の部分のみの体積を求めて 4 倍する。

$$\begin{aligned} V &= 4 \iint_D \sqrt{f(x)^2 - y^2} dx dy \\ &= 4 \int_a^b dx \int_0^{f(x)} \sqrt{f(x)^2 - y^2} dy = \underline{\underline{\pi \int_a^b f(x)^2 dx}} \end{aligned}$$

➤ **曲面積**

曲面の面積を求める。

x 軸方向に dx , y 軸方向に dy だけ変化した領域 D における $z = f(x, y)$ がつくる曲面積を考える。 $A(x_1, y_1, z_1)$ での接平面 $ABCD$ の面積を求め、 $dx \rightarrow 0, dy \rightarrow 0$ とすればよい。
 B および C の座標は A での偏微分を用いて次のように表される



$$B: (x_2, y_1, z_2) = \left(x_1 + dx, y_1, z_1 + \frac{\partial z}{\partial x} \cdot dx \right)$$

$$C: (x_1, y_2, z_3) = \left(x_1, y_1 + dy, z_1 + \frac{\partial z}{\partial y} \cdot dy \right)$$

$\angle BAC$ を θ とおくと平行四辺形 $ABCD$ の面積 ΔS は

$$\begin{aligned} \Delta S &= AB \times AC \times \sin \theta \\ &= AB \times AC \times \sqrt{1 - \cos^2 \theta} \\ &= \sqrt{(AB \times AC)^2 - (AB \times AC \times \cos \theta)^2} \end{aligned}$$

ここで前半部分は

AB と AC の内積

$$\begin{aligned}
(AB \times AC)^2 &= \left\{ (x_2 - x_1)^2 + 0^2 + \left(\frac{\partial z}{\partial x} \cdot dx \right)^2 \right\} \times \left\{ 0^2 + (y_2 - y_1)^2 + \left(\frac{\partial z}{\partial y} \cdot dy \right)^2 \right\} \\
&= \left\{ (dx)^2 + 0^2 + \left(\frac{\partial z}{\partial x} \cdot dx \right)^2 \right\} \times \left\{ 0^2 + (dy)^2 + \left(\frac{\partial z}{\partial y} \cdot dy \right)^2 \right\} \\
&= (dx)^2 (dy)^2 \left\{ 1 + \left(\frac{\partial z}{\partial x} \right)^2 + \left(\frac{\partial z}{\partial y} \right)^2 + \left(\frac{\partial z}{\partial x} \right) \left(\frac{\partial z}{\partial y} \right) \right\}
\end{aligned}$$

後半は

$$\begin{aligned}
(AB \times AC \times \cos \theta)^2 &= \left\{ (x_2 - x_1)(x_1 - x_1) + (y_2 - x_1)(y_1 - y_1) + \left(\frac{\partial z}{\partial x} \cdot dx \right) \left(\frac{\partial z}{\partial y} \cdot dy \right) \right\}^2 \\
&= (dx)^2 (dy)^2 \left(\frac{\partial z}{\partial x} \right) \left(\frac{\partial z}{\partial y} \right)
\end{aligned}$$

よって、

$$\Delta S = dx dy \sqrt{1 + \left(\frac{\partial z}{\partial x} \right)^2 + \left(\frac{\partial z}{\partial y} \right)^2}$$

これを x 軸方向、 y 軸方向それぞれについて重積分すればよい。

定理 13 曲面積

$f(x, y)$ が D で C^1 級ならば、曲面 $z = f(x, y)$ は曲面積 S をもち

$$S = \iint_D \sqrt{1 + f_x(x, y)^2 + f_y(x, y)^2} dx dy$$

例 16

放物面 $z = x^2 + y^2$ の $z \leq a$ ($a > 0$)の部分の表面積 S をもとめよ

$D = \{(x, y, z) \mid x^2 + y^2 \leq a^2, x \geq 0, y \geq 0\}$ として、4倍する。 $x = r \cos \theta, y = r \sin \theta$ と極座標変換すると

$$\begin{aligned}
S &= 4 \iint_D \sqrt{1 + (2x)^2 + (2y)^2} dx dy \\
&= 4 \int_0^{\frac{\pi}{2}} d\theta \int_0^{\sqrt{a}} r \sqrt{1 + 4r^2} dr \\
&= 2\pi \left[\frac{(1 + 4r^2)^{\frac{3}{2}}}{12} \right]_0^{\sqrt{a}} = \frac{(1 + 4a)^{\frac{3}{2}} - 1}{6} \pi
\end{aligned}$$

$y = f(x)$ を $a \leq x \leq b$ の範囲で x 軸のまわりに回転した回転体の表面積を求めよう。

回転体の $z \geq 0$ の部分は、 $D = \{(x, y, z) \mid a \leq x \leq b, -|f(x)| \leq y \leq |f(x)|\}$ 上の面積 $z = \sqrt{f(x)^2 - y^2}$ である。

$$\begin{aligned}\sqrt{1 + z_x^2 + z_y^2} &= \sqrt{1 + \left(\frac{f(x)f'(x)}{\sqrt{f(x)^2 - y^2}}\right)^2 + \left(\frac{-y}{\sqrt{f(x)^2 - y^2}}\right)^2} \\ &= |f(x)| \frac{\sqrt{1 + f'(x)^2}}{\sqrt{f(x)^2 - y^2}}\end{aligned}$$

となるので、

$$\begin{aligned}S &= 2 \iint_D \sqrt{1 + z_x^2 + z_y^2} \, dx dy = 2 \iint_D |f(x)| \frac{\sqrt{1 + f'(x)^2}}{\sqrt{f(x)^2 - y^2}} \, dx dy \\ &= 4 \int_a^b |f(x)| \sqrt{1 + f'(x)^2} \, dx \int_0^{|f(x)|} \frac{dy}{\sqrt{f(x)^2 - y^2}} \\ &= 4 \int_a^b |f(x)| \sqrt{1 + f'(x)^2} \left[\sin^{-1} \frac{y}{|f(x)|} \right]_0^{|f(x)|} dx \\ &= 2\pi \int_a^b |f(x)| \sqrt{1 + f'(x)^2} \, dx\end{aligned}$$

例 17

半径 a の球の表面積 S をもとめよ

$y = f(x) = \sqrt{a^2 - x^2}$ ($-a \leq x \leq a$) を x 軸周りに回転させると、

$$f'(x) = \frac{-x}{\sqrt{a^2 - x^2}}$$

より、

$$\sqrt{1 + f'(x)^2} = \frac{a}{\sqrt{a^2 - x^2}}$$

となるので、

$$S = 2\pi \int_{-a}^a \sqrt{a^2 - x^2} \frac{a}{\sqrt{a^2 - x^2}} \, dx = 2\pi a \int_{-a}^a dx = 4\pi a^2$$

例題 6

サイクロイド $x = a(\theta - \sin \theta)$, $y = a(1 - \cos \theta)$ ($a > 0$, $0 \leq \theta \leq 2\pi$) を x 軸のまわりに回転した回転体の表面積を求めよ。

$$S = 4\pi \int_0^{\pi a} y \sqrt{1 + \left(\frac{dy}{dx}\right)^2} \, dx$$

$$\begin{aligned} &= 4\pi \int_0^\pi y \sqrt{1 + \left(\frac{dy/d\theta}{dx/d\theta}\right)^2} \frac{dx}{d\theta} d\theta \\ &= 4\pi \int_0^\pi a(1 - \cos \theta) \sqrt{a^2(1 - \cos \theta)^2 + (a \sin \theta)^2} d\theta \\ &= 4\pi a^2 \int_0^\pi (1 - \cos \theta) \sqrt{(1 - \cos \theta)^2 + (\sin \theta)^2} d\theta \\ &= 8\pi a^2 \int_0^\pi (1 - \cos \theta) \sin \frac{\theta}{2} d\theta = 16\pi a^2 \int_0^\pi \sin^3 \frac{\theta}{2} d\theta \\ &= 32\pi a^2 \int_0^{\frac{\pi}{2}} \sin^3 t dt = 32\pi a^2 \cdot \frac{2}{3} = \underline{\underline{\frac{64}{3}\pi a^2}} \end{aligned}$$

【問題集】

➤ 立体の体積

次の立体の体積を求めよ。

- (1) 3重積分を用いて、半径1の球
- (2) 楕円体 $x^2 + \frac{y^2}{4} + \frac{z^2}{9} \leq 1$
- (3) 曲面 $z = 4 - x^2 - y^2$ と xy 平面で囲まれた立体
- (4) 球 $x^2 + y^2 + z^2 \leq 9$ と円柱 $x^2 + y^2 \leq 4$ で平面で囲まれた立体
- (5) 円柱 $x^2 + y^2 \leq a^2$ ($a > 0$) の xy 平面の上方、平面 $z = x$ の下方にある部分の立体
- (6) $x^{\frac{2}{3}} + y^{\frac{2}{3}} + z^{\frac{2}{3}} \leq a^{\frac{2}{3}}$ ($a > 0$) で囲まれた部分
- (7) 曲面 $z = xy$ ($x \geq 0, y \geq 0$) と円柱 $x^2 + y^2 = a^2$ および xy 平面で囲まれた立体
- (8) 円柱 $x^2 + y^2 \leq 1$ と球 $x^2 + y^2 + z^2 \leq 4$ の共通部分
- (9) 球 $x^2 + y^2 + z^2 \leq a^2$ ($a > 0$) の内部にある円柱 $x^2 + y^2 \leq ax$ の共通部分
- (10) 曲面 $z = 1 - x^2 - y^2$ と xy 平面で囲まれた立体
- (11) 円柱 $x^2 + y^2 = 1$ と2つの平面 $z = 0, z = x + 1$ で囲まれた立体
- (12) $z = xy$, 円柱面 $(x - 1)^2 + (y - 1)^2 = 1$ と xy 平面で囲まれた部分
- (13) $\sqrt{|x|} + \sqrt{|y|} + \sqrt{|z|} = 1$ と座標平面で囲まれた部分
- (14) $x^2 + y^2 + z^2 \leq 4$ かつ $(x - 1)^2 + y^2 \leq 1$ の共通部分
- (15) $z \leq 4 - x^2 - y^2$ かつ $0 \leq z$ と、 $x^2 + (y - 1)^2 \leq 1$ の共通部分

次の回転体の体積を求めよ。

- (1) 球 $x^2 + y^2 + z^2 \leq 4$ を平面 $x = 1$ で切り取ったときの $x \geq 1$ の部分
- (2) 曲面 $x = y^2 + z^2$ と平面 $x = a$ ($z > 0$) で囲まれた立体

➤ 曲面積

次の図形の表面積を求めよ。

- (1) 平面 $x + y + z = 1$ の $x, y, z \geq 0$ の部分の面積
- (2) 球面 $x^2 + y^2 + z^2 = a^2$ ($a > 0$) のうちで
 $x_0 \leq x \leq x_0 + h$ ($-a \leq x_0 \leq x_0 + h \leq a$) の部分の面積 (球帯の表面積)
- (3) 円柱面 $x^2 + y^2 = a^2$ ($a > 0$) の内部にある円柱面 $x^2 + z^2 = a^2$ の表面積
- (4) 球面 $x^2 + y^2 + z^2 = 9$ が円柱面 $x^2 + y^2 = 4$ によって切り取られる部分の面積
- (5) $y = \sin x$ ($0 \leq x \leq \pi$) を x 軸の周りに回転してできる回転体の表面積
- (6) 錐体 $x^2 + y^2 = z^2$ ($z \geq 0$) が球面 $x^2 + y^2 + z^2 = a^2$
 によって切り取られる部分の面積
- (7) 楕円 $x^2 + \frac{y^2}{2} = 1$ を x 軸の周りに回転してできる回転体の表面積
- (8) アステロイド $x^{\frac{2}{3}} + y^{\frac{2}{3}} = a^{\frac{2}{3}}$ ($a > 0$) を x 軸の周りに回転してできる回転体の表面積
- (9) 曲面 $z = 3 - x^2 - y^2$ ($z \geq 0$) の面積
- (10) 曲面 $z = xy$ ($x^2 + y^2 \leq 1$) の面積
- (11) 曲面 $z = \sqrt{4 - x^2 - y^2}$ ($z \geq \sqrt{2}$) の面積
- (12) 曲面 $z = \frac{4}{3}x^{\frac{3}{2}} + \frac{4}{3}y^{\frac{3}{2}}$ ($0 \leq x \leq 1, 0 \leq y \leq 1$) の面積

【解答】

➤ 立体の体積

教科書演習 P.165 例題 5.13

(1) 3重積分を用いて、半径1の球の体積を求めよ。

$D = \{(x, y) \mid x^2 + y^2 + z^2 \leq 1\}$ とおく。求める体積 V は

$$V = \iiint_D dx dy dz$$

$x = r \sin \theta \cos \varphi, y = r \sin \theta \sin \varphi, z = r \cos \theta$ とおくと、

$r\theta\varphi$ 平面の有界閉領域 $E_n = \{(x, y) \mid 0 \leq r \leq 1, 0 \leq \theta \leq \pi, 0 \leq \varphi \leq 2\pi\}$ と xy 平面の有界閉領域 D が対応する。 $J = r^2$ より

$$V = \iiint_D dx dy dz = \int_0^1 r^2 dr \int_0^\pi \sin \theta d\theta \int_0^{2\pi} d\varphi = \frac{1}{3} \cdot 2 \cdot 2\pi = \underline{\underline{\frac{4}{3}\pi}}$$

(2) 楕円体 $x^2 + \frac{y^2}{4} + \frac{z^2}{9} \leq 1$ の体積を求めよ。

$x = u, y = 2v, z = 3w$ とおくと $D = \{(u, v, w) \mid u^2 + v^2 + w^2 \leq 1\}$ となり、

$$J = \begin{vmatrix} 1 & 0 & 0 \\ 0 & 2 & 0 \\ 0 & 0 & 3 \end{vmatrix} = 6$$

となるので、求める体積 V は

$$V = \iiint_D dx dy dz = 6 \iiint_D du dv dw = 6 \cdot \frac{4}{3}\pi = \underline{\underline{8\pi}}$$

教科書 P.171 問 16 (演習に出題)

次の立体の体積を求めよ。

(3) 曲面 $z = 4 - x^2 - y^2$ と xy 平面で囲まれた立体

$z = 0$ とすると $x^2 + y^2 = 4$ であるから、

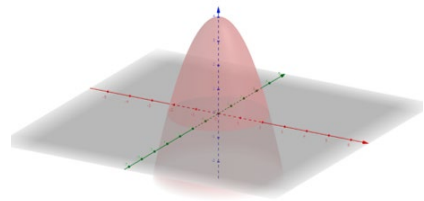
$D = \{(x, y) \mid x^2 + y^2 \leq 4\}$ とおく。

領域 D における点 (x, y) において $4 - x^2 - y^2 \geq 0$ であるから、求める体積 V は

$$V = \iint_D (4 - x^2 - y^2) dx dy$$

$x = r \cos \theta, y = r \sin \theta$ と変換すると、 $E = \{(r, \theta) \mid 0 \leq r \leq 2, 0 \leq \theta \leq 2\pi\}$, $J = r$ より

$$V = \int_0^{2\pi} d\theta \int_0^2 (4r - r^3) dr = \underline{\underline{8\pi}}$$



(4) 球 $x^2 + y^2 + z^2 \leq 9$ と円柱 $x^2 + y^2 \leq 4$ で平面で囲まれた立体

$D = \{(x, y) \mid x^2 + y^2 \leq 4, x \geq 0, y \geq 0\}$ とおく。

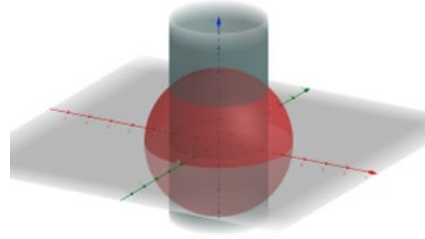
求める体積 V は

$$V = 8 \iint_D \sqrt{9 - x^2 - y^2} \, dx dy$$

$x = r \cos \theta, y = r \sin \theta$ と変換すると、 $E =$

$\{(r, \theta) \mid 0 \leq r \leq 2, 0 \leq \theta \leq \frac{\pi}{2}\}, J = r$ より

$$V = 8 \int_0^{\frac{\pi}{2}} d\theta \int_0^2 \sqrt{9 - r^2} r \, dr = 4\pi \left[-\frac{1}{3}(9 - r^2)^{\frac{3}{2}} \right]_0^2 = \underline{\underline{4\pi \left(9 - \frac{5\sqrt{5}}{3} \right)}}$$



(5) 円柱 $x^2 + y^2 \leq a^2$ ($a > 0$) の xy 平面の上方、平面 $z = x$ の下方にある部分の立体

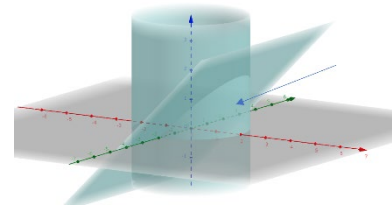
$D = \{(x, y) \mid x^2 + y^2 \leq a^2, x \geq 0, y \geq 0\}$ とおく。

求める体積 V は

$$V = 2 \iint_D x \, dx dy$$

$x = r \cos \theta, y = r \sin \theta$ と変換すると、 $E = \{(r, \theta) \mid 0 \leq r \leq a, 0 \leq \theta \leq \frac{\pi}{2}\}, J = r$ より

$$V = 2 \int_0^{\frac{\pi}{2}} d\theta \int_0^a r \cos \theta \, r \, dr = 2 \int_0^{\frac{\pi}{2}} \cos \theta \, d\theta \int_0^a r^2 \, dr = \underline{\underline{\frac{2}{3} a^3}}$$



教科書 P.177 演習問題 5-A 8 (レポートに出題)

次の立体の体積を求めよ。

(6) $x^{\frac{2}{3}} + y^{\frac{2}{3}} + z^{\frac{2}{3}} \leq a^{\frac{2}{3}}$ ($a > 0$) で囲まれた部分

対称なので、 $x \geq 0, y \geq 0, z \geq 0$ の部分を計算して 8 倍する。 z について解くと

$$z = \left(a^{\frac{2}{3}} - x^{\frac{2}{3}} - y^{\frac{2}{3}} \right)^{\frac{3}{2}}$$

$D = \{(x, y) \mid 0 \leq x^{\frac{2}{3}} + y^{\frac{2}{3}} \leq a^{\frac{2}{3}}, x \geq 0, y \geq 0\}$ とおくと、求める体積 V は

$$V = 8 \iint_D dx dy \int_0^{\left(a^{\frac{2}{3}} - x^{\frac{2}{3}} - y^{\frac{2}{3}} \right)^{\frac{3}{2}}} dz = 8 \iint_D \left(a^{\frac{2}{3}} - x^{\frac{2}{3}} - y^{\frac{2}{3}} \right)^{\frac{3}{2}} dx dy$$

ここで、 $x = ar^3 \cos^3 \theta, y = ar^3 \sin^3 \theta$ とおくと、

$$J = \begin{vmatrix} 3ar^2 \cos^3 \theta & -3ar^3 \cos^2 \theta \sin \theta \\ 3ar^2 \sin^3 \theta & 3ar^3 \sin^2 \theta \cos \theta \end{vmatrix} = 9a^2 r^5 \cos^2 \theta \sin^2 \theta$$

$$\left(a^{\frac{2}{3}} - x^{\frac{2}{3}} - y^{\frac{2}{3}} \right)^{\frac{3}{2}} = a(1-r^2)^{\frac{3}{2}}$$

となるので、

$$V = 8 \int_0^{\frac{\pi}{2}} \int_0^1 a(1-r^2)^{\frac{3}{2}} \cdot 9a^2 r^5 \cos^2 \theta \sin^2 \theta \, dr d\theta$$

$$= 72a^3 \int_0^{\frac{\pi}{2}} \cos^2 \theta \sin^2 \theta \, d\theta \int_0^1 r^5 (1-r^2)^{\frac{3}{2}} \, dr$$

θ についての積分は、

$$\int_0^{\frac{\pi}{2}} \cos^2 \theta \sin^2 \theta \, d\theta = \frac{1}{4} \int_0^{\frac{\pi}{2}} \sin^2 2\theta \, d\theta = \frac{1}{8} \int_0^{\frac{\pi}{2}} (1 - \cos 4\theta) \, d\theta = \frac{1}{8} \left[\theta - \frac{1}{4} \sin 4\theta \right]_0^{\frac{\pi}{2}}$$

$$= \frac{1}{8} \left\{ \left(\frac{\pi}{2} - 0 \right) - (0 - 0) \right\} = \frac{\pi}{16}$$

r についての積分は、 $r = \sin \varphi$ とおくと $dr = \cos \varphi \, d\varphi$

$$\int_0^1 r^5 (1-r^2)^{\frac{3}{2}} \, dr = \int_0^{\frac{\pi}{2}} \sin^5 \varphi \cos^4 \varphi \, d\varphi = \int_0^{\frac{\pi}{2}} \sin \varphi (1 - \cos^2 \varphi)^2 \cos^4 \varphi \, d\varphi$$

$$= - \int_0^{\frac{\pi}{2}} (\cos \varphi)' \{ \cos^8 \varphi - 2 \cos^6 \varphi + \cos^4 \varphi \} \, d\varphi = - \left[\frac{\cos^9 \varphi}{9} - \frac{2 \cos^7 \varphi}{7} + \frac{\cos^5 \varphi}{5} \right]_0^{\frac{\pi}{2}}$$

$$= - \left\{ (0 - 0 + 0) - \left(\frac{1}{9} - \frac{2}{7} + \frac{1}{5} \right) \right\} = \frac{8}{5 \cdot 7 \cdot 9}$$

以上より、

$$V = 72a^3 \cdot \frac{\pi}{16} \cdot \frac{8}{5 \cdot 7 \cdot 9} = \frac{4}{35} \pi a^3$$

(7) 曲面 $z = xy$ ($x \geq 0, y \geq 0$) と円柱 $x^2 + y^2 = a^2$ および xy 平面で囲まれた立体

$D = \{(x, y) \mid x^2 + y^2 \leq a^2\}$ とおく。

求める体積 V は

$$V = \iint_D xy \, dx dy = \int_0^a dx \int_0^{\sqrt{a^2-x^2}} xy \, dy$$

$x = r \cos \theta, y = r \sin \theta$ と変換すると、 $E = \{(r, \theta) \mid 0 \leq r \leq a, 0 \leq \theta \leq \pi\}$, $J = r$ より

$$V = \int_0^{\frac{\pi}{2}} d\theta \int_0^a r^3 \sin \theta \cos \theta \, dr = \frac{a^4}{4} \left[\frac{\sin^2 \theta}{2} \right]_0^{\frac{\pi}{2}} = \frac{a^4}{8}$$

(8) 円柱 $x^2 + y^2 \leq 1$ と球 $x^2 + y^2 + z^2 \leq 4$ の共通部分

$D = \{(x, y) \mid x^2 + y^2 \leq 1, x \geq 0, y \geq 0\}$ とおく。

求める体積 V は

$$V = 8 \iint_D \sqrt{4 - x^2 - y^2} \, dx dy$$

$x = r \cos \theta, y = r \sin \theta$ と変換すると、 $E = \{(r, \theta) \mid 0 \leq r \leq 2, 0 \leq \theta \leq \frac{\pi}{2}\}$, $J = r$ より

$$V = 8 \int_0^{\frac{\pi}{2}} d\theta \int_0^1 \sqrt{4 - r^2} r dr = 4\pi \left[-\frac{1}{3}(4 - r^2)^{\frac{3}{2}} \right]_0^1 = \frac{4(8 - 3\sqrt{3})\pi}{3}$$

(9) 球 $x^2 + y^2 + z^2 \leq a^2$ ($a > 0$) の内部にある円柱 $x^2 + y^2 \leq ax$ の共通部分

$D = \{(x, y) \mid x^2 + y^2 \leq ax\}$ とおく。

求める体積 V は

$$V = 2 \iint_D \sqrt{a^2 - x^2 - y^2} \, dx dy$$

$x = ar \cos \theta, y = ar \sin \theta$ と変換すると、 $E = \{(r, \theta) \mid 0 \leq r \leq \cos \theta, 0 \leq \theta \leq \frac{\pi}{2}\}$ $J = a^2 r$ より

$$\begin{aligned} V &= 4 \int_0^{\frac{\pi}{2}} d\theta \int_0^{\cos \theta} \sqrt{a^2 - r^2} r dr = 4 \int_0^{\frac{\pi}{2}} d\theta \left[-\frac{1}{3}(a^2 - r^2)^{\frac{3}{2}} \right]_0^{\cos \theta} \\ &= \frac{4a^3}{3} \int_0^{\frac{\pi}{2}} (1 - \sin^3 \theta) d\theta = \frac{4a^3}{3} \left(\frac{\pi}{2} - \frac{2}{3} \right) \end{aligned}$$

教科書演習 P.166 例題 5.14

次の立体の体積を求めよ。

(10) 曲面 $z = 1 - x^2 - y^2$ と xy 平面で囲まれた立体

$z = 0$ とすると $x^2 + y^2 = 1$ であるから、 $D = \{(x, y) \mid x^2 + y^2 \leq 1\}$ とおく。

領域 D における点 (x, y) において $1 - x^2 - y^2 \geq 0$ であるから、求める体積 V は

$$V = \iint_D (1 - x^2 - y^2) \, dx dy$$

$x = r \cos \theta, y = r \sin \theta$ と変換すると、 $E = \{(r, \theta) \mid 0 \leq r \leq 1, 0 \leq \theta \leq 2\pi\}$, $J = r$ より

$$V = \int_0^{2\pi} d\theta \int_0^1 (r - r^3) dr = \frac{\pi}{2}$$

(11) 円柱 $x^2 + y^2 = 1$ と2つの平面 $z = 0, z = x + 1$ で囲まれた立体

$D = \{(x, y) \mid x^2 + y^2 \leq 1\}$ とおく。

求める体積 V は

$$V = \iint_D (x + 1) dx$$

$x = r \cos \theta, y = r \sin \theta$ と変換すると、 $E = \{(r, \theta) \mid 0 \leq r \leq 1, 0 \leq \theta \leq 2\pi\}, J = r$ より

$$\begin{aligned} V &= \int_0^{2\pi} d\theta \int_0^1 (r^2 \cos \theta + r) dr = \int_0^{2\pi} d\theta \left[\frac{r^3}{3} \cos \theta + \frac{r^2}{2} \right]_0^1 \\ &= \int_0^{2\pi} \left\{ \frac{1}{3} \cos \theta + \frac{1}{2} \right\} d\theta = \left[\frac{1}{3} \sin \theta + \frac{1}{2} \theta \right]_0^{2\pi} = \underline{\pi} \end{aligned}$$

教科書演習 P.170 演習問題 5-A 7

次の立体の体積を求めよ。

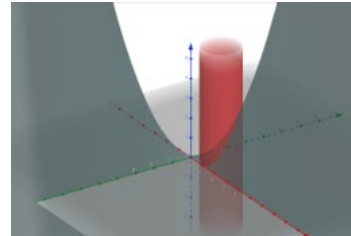
(12) $z = xy$, 円柱面 $(x - 1)^2 + (y - 1)^2 = 1$ と xy 平面で囲まれた部分

$u = x - 1, v = y - 1$ とおくと、

$D = \{(x, y) \mid x^2 + y^2 \leq 1, x \geq 0, y \geq 0\}$ となり、

求める体積 V は

$$V = \iint_D (u + 1)(v + 1) 1 dudv$$



$u = r \cos \theta, v = r \sin \theta$ と変換すると、 $E = \{(r, \theta) \mid 0 \leq r \leq 1, 0 \leq \theta \leq 2\pi\}, J = r$ より

$$\begin{aligned} V &= \int_0^{2\pi} d\theta \int_0^1 (r \cos \theta + 1)(r \sin \theta + 1) r dr \\ &= \int_0^{2\pi} d\theta \left[\frac{r^4}{4} \cos \theta \sin \theta + \frac{r^3}{3} (\cos \theta + \sin \theta) + \frac{r^2}{2} \right]_0^1 \\ &= \int_0^{2\pi} \left(\frac{1}{4} \cos \theta \sin \theta + \frac{1}{3} (\cos \theta + \sin \theta) + \frac{1}{2} \right) d\theta \\ &= \left[\frac{1}{8} \sin^2 \theta + \frac{1}{3} (\sin \theta - \cos \theta) + \frac{1}{2} \theta \right]_0^{2\pi} = \underline{\pi} \end{aligned}$$

(13) $\sqrt{|x|} + \sqrt{|y|} + \sqrt{|z|} = 1$ と座標平面で囲まれた部分

$x \geq 0, y \geq 0, z \geq 0$ に関して考えて、8 倍する。

求める体積 V は

$$\begin{aligned} V &= 8 \int_0^1 dx \int_0^{(1-\sqrt{x})^2} dy \int_0^{(1-\sqrt{x}-\sqrt{y})^2} dz = 8 \int_0^1 dx \int_0^{(1-\sqrt{x})^2} (1-\sqrt{x}-\sqrt{y})^2 dy \\ &= 8 \int_0^1 dx \int_0^{(1-\sqrt{x})^2} \{(1-\sqrt{x})^2 - 2(1-\sqrt{x})\sqrt{y} + y\} dy \end{aligned}$$

$$\begin{aligned}
&= 8 \int_0^1 dx \left[(1-\sqrt{x})^2 y - 2(1-\sqrt{x}) \frac{2}{3} y^{\frac{3}{2}} + \frac{y^2}{2} \right]_0^{(1-\sqrt{x})^2} \\
&= \frac{4}{3} \int_0^1 (1-\sqrt{x})^4 dx = \frac{4}{3} \int_0^1 (1-4\sqrt{x}+6x-4x\sqrt{x}+x^2) dx \\
&= \frac{4}{3} \left[x - \frac{8}{3} x^{\frac{3}{2}} + 3x^2 - \frac{8}{5} x^{\frac{5}{2}} + \frac{x^3}{3} \right]_0^1 = \underline{\underline{\frac{4}{45}}}
\end{aligned}$$

キャンパス・ゼミ 微分積分 P.220 演習問題 30

(14) $x^2 + y^2 + z^2 \leq 4$ かつ $(x-1)^2 + y^2 \leq 1$ の共通部分の体積 V を求めよ

この問題は、

$$\iiint_D \sqrt{4-x^2-y^2} dx dy dz \quad D = \{(x, y, z) \mid x^2 + y^2 \leq 2x, \quad -1 \leq z \leq 1\}$$

と書き換えることができる。

$x = r \cos \theta, y = r \sin \theta, z = z$ とおくと、

$r\theta$ 平面の有界閉領域 $E = \{(x, y) \mid 0 \leq r \leq 2 \cos \theta, -\frac{\pi}{2} \leq \theta \leq \frac{\pi}{2}, -1 \leq z \leq 1\}$ と xy 平面の有界閉領域 D が対応する。

$$\begin{aligned}
\iiint_D \sqrt{4-x^2-y^2} dx dy dz &= 2 \iint_E \sqrt{4-r^2} \cdot r dr d\theta = 2 \int_{-\frac{\pi}{2}}^{\frac{\pi}{2}} d\theta \int_0^{2 \cos \theta} r \sqrt{4-r^2} dr \\
&= 2 \int_{-\frac{\pi}{2}}^{\frac{\pi}{2}} d\theta \left[-\frac{1}{3} (4-r^2)^{\frac{3}{2}} \right]_0^{2 \cos \theta} = \frac{2}{3} \int_{-\frac{\pi}{2}}^{\frac{\pi}{2}} \{4 - 4|\sin \theta|^3\} d\theta = \frac{16}{3} \int_0^{\frac{\pi}{2}} \{1 - \sin^3 \theta\} d\theta \\
&= \frac{16}{3} \left\{ \frac{\pi}{2} - \frac{2}{3} \right\} = \underline{\underline{\frac{8(3\pi-4)}{9}}}
\end{aligned}$$

キャンパス・ゼミ 微分積分 P.222 演習問題 31

(15) $z \leq 4 - x^2 - y^2$ かつ $0 \leq z$ と、 $x^2 + (y-1)^2 \leq 1$ の共通部分の体積 V を求めよ

この問題は、

$$\iiint_D (4-x^2-y^2) dx dy dz \quad D = \{(x, y, z) \mid x^2 + y^2 \leq 2y, \quad -1 \leq z \leq 1\}$$

と書き換えることができる。

$x = r \cos \theta, y = r \sin \theta, z = z$ とおくと、

$r\theta$ 平面の有界閉領域 $E = \{(x, y) | 0 \leq r \leq 2 \sin \theta, 0 \leq \theta \leq \pi, 0 \leq z \leq 1\}$ と xy 平面の有界閉領域 D が対応する。

$$\begin{aligned} \iiint_D (4 - x^2 - y^2) dx dy dz &= \iint_E (4 - r^2) \cdot r dr d\theta = \int_0^\pi d\theta \int_0^{2 \sin \theta} (4r - r^3) dr \\ &= \int_0^\pi d\theta \left[2r^2 - \frac{r^4}{4} \right]_0^{2 \sin \theta} = \int_0^\pi \{8 \sin^2 \theta - 4 \sin^4 \theta\} d\theta = 8 \int_0^{\frac{\pi}{2}} \{2 \sin^2 \theta - \sin^4 \theta\} d\theta \\ &= 8 \left\{ 2 \cdot \frac{1}{2} \cdot \frac{\pi}{2} - \left(\frac{3}{4} \cdot \frac{1}{2} \cdot \frac{\pi}{2} \right) \right\} = \underline{\underline{\frac{5\pi}{2}}} \end{aligned}$$

教科書 P.171 問 17 (演習に出題)

次の回転体の体積を求めよ。

- (1) 球 $x^2 + y^2 + z^2 \leq 4$ を平面 $x = 1$ で切り取ったときの $x \geq 1$ の部分

$$D = \{(x, y) | 1 \leq x \leq 2, 0 \leq y \leq \sqrt{2 - x^2}\} \text{とおく。}$$

求める体積 V は

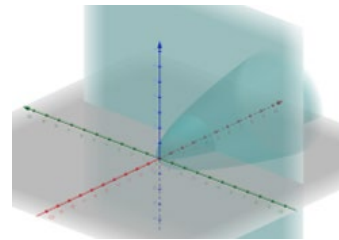
$$V = \pi \int_1^2 (4 - x^2) dx = \pi \left[4x - \frac{x^3}{3} \right]_1^2 = \underline{\underline{\frac{5}{3}\pi}}$$

- (2) 曲面 $x = y^2 + z^2$ と平面 $x = a (z > 0)$ で囲まれた立体

$$D = \{(x, y) | 0 \leq x \leq a, 0 \leq y \leq \sqrt{x}\} \text{とおく。}$$

求める体積 V は

$$V = \pi \int_0^a x dx = \pi \left[\frac{x^2}{2} \right]_0^a = \underline{\underline{\frac{a^2}{2}\pi}}$$



➤ **曲面積**

教科書 P.175 問 18 (レポートに出題)

次の図形の表面積を求めよ。

- (1) 平面 $x + y + z = 1$ の $x, y, z \geq 0$ の部分の面積

$$D = \{(x, y) | x + y \leq 1, x \geq 0, y \geq 0\} \text{とする。}$$

$x + y + z = 1$ は変形すると $z = 1 - x - y$ であり、 $z_x = -1, z_y = -1$ であるから、

求める曲面積 S は

$$S = \iint_D \sqrt{(-1)^2 + (-1)^2 + 1} dx dy = \iint_D \sqrt{3} dx dy$$

$$\begin{aligned}
 &= \sqrt{3} \int_0^1 dx \int_0^{1-x} dy = \sqrt{3} \int_0^1 (1-x) dx \\
 &= \sqrt{3} \left[x - \frac{x^2}{2} \right]_0^1 = \frac{\sqrt{3}}{2}
 \end{aligned}$$

(2) 球面 $x^2 + y^2 + z^2 = a^2$ ($a > 0$) のうちで

$x_0 \leq x \leq x_0 + h$ ($-a \leq x_0 \leq x_0 + h \leq a$) の部分の面積(球帯の表面積)

$D = \{(x, y) \mid x^2 + y^2 \leq a^2, x_0 \leq x \leq x_0 + h\}$ とする。 $y \geq 0, z \geq 0$ について計算して 4 倍する
 $z = \sqrt{a^2 - x^2 - y^2}$ であり、

$$z_x = -\frac{x}{\sqrt{a^2 - x^2 - y^2}}, \quad z_y = -\frac{y}{\sqrt{a^2 - x^2 - y^2}}$$

であるから、

求める曲面積 S は

$$\begin{aligned}
 S &= 4 \iint_D \sqrt{\left(-\frac{x}{\sqrt{a^2 - x^2 - y^2}}\right)^2 + \left(-\frac{y}{\sqrt{a^2 - x^2 - y^2}}\right)^2 + 1} dx dy \\
 &= 4 \iint_D \frac{a}{\sqrt{a^2 - x^2 - y^2}} dx dy \\
 &= 4a \int_{x_0}^{x_0+h} dx \int_0^{\sqrt{a^2 - x^2}} \frac{1}{\sqrt{a^2 - x^2 - y^2}} dy = 4a \int_{x_0}^{x_0+h} dx \left[\sin^{-1} \frac{y}{\sqrt{a^2 - x^2}} \right]_0^{\sqrt{a^2 - x^2}} \\
 &= 2\pi a \int_{x_0}^{x_0+h} dx = \underline{2\pi ah}
 \end{aligned}$$

(3) 円柱面 $x^2 + y^2 = a^2$ ($a > 0$) の内部にある円柱面 $x^2 + z^2 = a^2$ の表面積

$D = \{(x, y) \mid x^2 + y^2 \leq a^2, x \geq 0, y \geq 0, z \geq 0\}$ として計算して 8 倍する
 $z = \sqrt{a^2 - x^2}$ であり、

$$z_x = -\frac{x}{\sqrt{a^2 - x^2}}, \quad z_y = 0$$

であるから、

求める曲面積 S は

$$\begin{aligned}
 S &= 8 \iint_D \sqrt{\left(-\frac{x}{\sqrt{a^2 - x^2}}\right)^2 + 0^2 + 1} dx dy = 8 \iint_D \frac{a}{\sqrt{a^2 - x^2}} dx dy \\
 &= 8a \int_0^a dx \int_0^{\sqrt{a^2 - x^2}} \frac{1}{\sqrt{a^2 - x^2}} dy = \underline{8a^2}
 \end{aligned}$$

(4) 球面 $x^2 + y^2 + z^2 = 9$ が円柱面 $x^2 + y^2 = 4$ によって切り取られる部分の面積

$D = \{(x, y) \mid x^2 + y^2 \leq 4, x \geq 0, y \geq 0, z \geq 0\}$ として計算して 8 倍する

$z = \sqrt{9 - x^2 - y^2}$ であり、

$$z_x = -\frac{x}{\sqrt{9 - x^2 - y^2}}, \quad z_y = -\frac{y}{\sqrt{9 - x^2 - y^2}}$$

であるから、

求める曲面積 S は

$$\begin{aligned} S &= 8 \iint_D \sqrt{\left(-\frac{x}{\sqrt{9 - x^2 - y^2}}\right)^2 + \left(-\frac{y}{\sqrt{9 - x^2 - y^2}}\right)^2 + 1} dx dy \\ &= 24 \iint_D \frac{1}{\sqrt{9 - x^2 - y^2}} dx dy \end{aligned}$$

ここで $x = r \cos \theta, y = r \sin \theta$ とおくと、

$r\theta$ 平面の有界閉領域 $E = \{(x, y) \mid 0 \leq r \leq 2, 0 \leq \theta \leq \frac{\pi}{2}\}$ と xy 平面の有界閉領域 D が対応する。

$$\begin{aligned} S &= 24 \int_0^{\frac{\pi}{2}} d\theta \int_0^2 \frac{r}{\sqrt{9 - r^2}} dr = 12\pi \left[-\sqrt{9 - r^2}\right]_0^2 \\ &= \underline{12\pi(3 - \sqrt{5})} \end{aligned}$$

(5) $y = \sin x$ ($0 \leq x \leq \pi$) を x 軸の周りに回転してできる回転体の表面積

$D = \{(x, y) \mid 0 \leq x \leq \frac{\pi}{2}, 0 \leq y \leq \sin x\}$ として計算して 2 倍する

$y = \sin x$ で $y' = \cos x$ であるから

求める曲面積 S は

$$S = 2 \cdot 2\pi \int_0^{\frac{\pi}{2}} \sin x \sqrt{1 + \cos^2 x} dx$$

ここで $\cos x = t$ とおくと、 $-\sin x dx = dt$ となる。積分部分は、

$$\begin{aligned} \int_0^1 \sqrt{1 + t^2} dt &= \left[t\sqrt{1 + t^2}\right]_0^1 - \int_0^1 t \frac{t}{\sqrt{1 + t^2}} dt \\ &= \left[t\sqrt{1 + t^2}\right]_0^1 - \int_0^1 \frac{t^2}{\sqrt{1 + t^2}} dt \\ &= \left[t\sqrt{1 + t^2}\right]_0^1 - \int_0^1 \frac{1 + t^2}{\sqrt{1 + t^2}} dt + \int_0^1 \frac{1}{\sqrt{1 + t^2}} dt \end{aligned}$$

$$= \left[t\sqrt{1+t^2} \right]_0^1 - \int_0^1 \sqrt{1+t^2} dt + \int_0^1 \frac{1}{\sqrt{1+t^2}} dt$$

よって、

$$\begin{aligned} \int_0^1 \sqrt{1+t^2} dt &= \frac{1}{2} \left\{ \left[t\sqrt{1+t^2} \right]_0^1 + \int_0^1 \frac{1}{\sqrt{1+t^2}} dt \right\} \\ &= \frac{1}{2} \left[t\sqrt{1+t^2} + \log \left| t + \sqrt{1+t^2} \right| \right]_0^1 = \frac{1}{2} \{ \sqrt{2} + \log(1 + \sqrt{2}) \} \end{aligned}$$

以上より、

$$S = 4\pi \cdot \frac{1}{2} \{ \sqrt{2} - \log(1 + \sqrt{2}) \} = \underline{2\pi \{ \sqrt{2} + \log(1 + \sqrt{2}) \}}$$

教科書 P.177 演習問題 5-A. 9.

(6) 錐体 $x^2 + y^2 = z^2$ ($z \geq 0$) が球面 $x^2 + y^2 + z^2 = a^2$

によって切り取られる部分の面積

$z = \sqrt{x^2 + y^2}$ であり、

$$z_x = \frac{x}{\sqrt{x^2 + y^2}}, \quad z_y = \frac{y}{\sqrt{x^2 + y^2}}$$

であるから、

求める曲面積 S は

$$\begin{aligned} S &= \frac{1}{2} \iint_D \sqrt{\left(\frac{x}{\sqrt{x^2 + y^2}} \right)^2 + \left(\frac{y}{\sqrt{x^2 + y^2}} \right)^2 + 1} dx dy \\ &= \frac{\sqrt{2}}{2} \iint_D dx dy \end{aligned}$$

$x = r \cos \theta, y = r \sin \theta$ とおくと、 $r\theta$ 平面の有界閉領域 $E = \{(x, y) \mid 0 \leq r \leq a, 0 \leq \theta \leq 2\pi\}$ と xy 平面の有界閉領域 D が対応する。

$$S = \frac{\sqrt{2}}{2} \int_0^{2\pi} d\theta \int_0^a r dr = \frac{\sqrt{2}}{2} \cdot 2\pi \cdot \frac{a^2}{2} = \underline{\frac{\sqrt{2}}{2} a^2 \pi}$$

(7) 楕円 $x^2 + \frac{y^2}{2} = 1$ を x 軸の周りに回転してできる回転体の表面積

$D = \{(x, y) \mid -1 \leq x \leq 1, 0 \leq y \leq \sqrt{2 - 2x^2}\}$ として計算して 2 倍する
 $y = \sqrt{2}\sqrt{1 - x^2}$ より

$$y' = \sqrt{2} \frac{-x}{\sqrt{1 - x^2}}$$

求める曲面積 S は

$$S = 4\pi \int_0^1 \sqrt{2}\sqrt{1-x^2} \sqrt{1 + \frac{2x^2}{1-x^2}} dx = 4\sqrt{2}\pi \int_0^1 \sqrt{1+x^2} dx$$

積分部分は、

$$\int_0^1 \sqrt{1+x^2} dt = \frac{1}{2} [x\sqrt{1+x^2} + \log|x + \sqrt{1+x^2}|]_0^1 = \frac{1}{2} \{\sqrt{2} + \log(1 + \sqrt{2})\}$$

であるから、

$$S = 4\sqrt{2}\pi \cdot \frac{1}{2} \{\sqrt{2} + \log(1 + \sqrt{2})\} = \underline{2\{2 + \sqrt{2} \log(1 + \sqrt{2})\}\pi}$$

(8) アステロイド $x^{\frac{2}{3}} + y^{\frac{2}{3}} = a^{\frac{2}{3}}$ ($a > 0$) を x 軸の周りに回転してできる回転体の表面積

$x = a \cos^3 \theta$, $y = a \sin^3 \theta$ とおく。対称性から $0 \leq \theta \leq \frac{\pi}{2}$ を考えて 4 倍する

$$\frac{dx}{dt} = -3a \cos^2 \theta \sin \theta, \quad \frac{dy}{dt} = 3a \sin^2 \theta \cos \theta,$$

より、

$$\frac{dy}{dx} = \frac{\frac{dx}{dt}}{\frac{dy}{dt}} = \frac{3a \sin^2 \theta \cos \theta}{-3a \cos^2 \theta \sin \theta} = -\frac{\sin \theta}{\cos \theta}$$

よって、求める曲面積 S は

$$\begin{aligned} S &= 2 \cdot 2\pi \int_0^{\frac{\pi}{2}} a \sin^3 \theta \sqrt{1 + \left(-\frac{\sin \theta}{\cos \theta}\right)^2} (-3a \cos^2 \theta \sin \theta) d\theta \\ &= -12a^2\pi \int_0^{\frac{\pi}{2}} \sin^4 \theta \cos \theta d\theta = 12a^2\pi \left[\frac{\sin^5 \theta}{5} \right]_0^{\frac{\pi}{2}} = \underline{\frac{12}{5} a^2\pi} \end{aligned}$$

キャンパス・ゼミ 微分積分 P.232 演習問題 33

(9) 曲面 $z = 3 - x^2 - y^2$ ($z \geq 0$) の面積

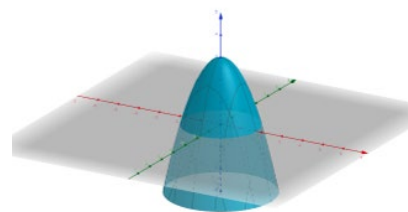
$z = 3 - x^2 - y^2$ は $z = 0$ のとき $x^2 + y^2 = 3$ であるから、

$D = \{(x, y) | x^2 + y^2 = 3\}$ とする。

$z_x = -2x$, $z_y = -2y$ であるから、

求める曲面積 S は

$$S = \iint_D \sqrt{(-2x)^2 + (-2y)^2 + 1} dx dy = \iint_D \sqrt{4x^2 + 4y^2 + 1} dx dy$$



ここで $x = r \cos \theta$, $y = r \sin \theta$ とおくと、

$E = \{(x, y) \mid 0 \leq r \leq \sqrt{3}, 0 \leq \theta \leq 2\pi\}$ と領域 D が対応する。

$$\begin{aligned} S &= \int_0^{2\pi} d\theta \int_0^{\sqrt{3}} \sqrt{4r^2 + 1} r dr = 2\pi \left[\frac{1}{12} (4r^2 + 1)^{\frac{3}{2}} \right]_0^{\sqrt{3}} \\ &= \frac{\pi}{6} \left\{ 13^{\frac{3}{2}} - 1 \right\} \end{aligned}$$

【別解】 z 軸の周りに回転してできる回転体の表面積として解く

yz 平面 ($x = 0$) において、 $z = 3 - y^2$ であるから

$$\frac{dy}{dz} = -\frac{1}{2y}$$

求める曲面積 S は

$$S = 2\pi \int_0^3 y \sqrt{1 + \left(-\frac{1}{2y}\right)^2} dz = 2\pi \int_0^3 \frac{\sqrt{4y^2 + 1}}{2} dz$$

$y^2 = 3 - z$ を代入すると、

$$S = \pi \int_0^3 \sqrt{13 - 4z} dz = -\frac{\pi}{6} \left[(13 - 4z^2)^{\frac{3}{2}} \right]_0^3 = \frac{\pi}{6} \left\{ 13^{\frac{3}{2}} - 1 \right\}$$

キャンパス・ゼミ 微分積分 P.236 実践問題 33

(10) 曲面 $z = xy$ ($x^2 + y^2 \leq 1$) の面積

$z_x = y$, $z_y = x$ であるから、

求める曲面積 S は

$$S = \iint_D \sqrt{y^2 + x^2 + 1} dx dy$$

ここで $x = r \cos \theta$, $y = r \sin \theta$ とおくと、 $E = \{(x, y) \mid 0 \leq r \leq 1, 0 \leq \theta \leq 2\pi\}$ が対応する。

$$\begin{aligned} S &= \int_0^{2\pi} d\theta \int_0^1 r \sqrt{r^2 + 1} r dr = 2\pi \left[\frac{1}{3} (r^2 + 1)^{\frac{3}{2}} \right]_0^1 \\ &= \frac{2(2\sqrt{2} - 1)\pi}{3} \end{aligned}$$

キャンパス・ゼミ 微分積分 P.237 演習問題 34

(11) 曲面 $z = \sqrt{4 - x^2 - y^2}$ ($z \geq \sqrt{2}$) の面積

$z = \sqrt{2}$ とすると、 $x^2 + y^2 = 2$ であるから、 $D = \{(x, y) \mid x^2 + y^2 \leq 2\}$ となる。

$z = \sqrt{4 - x^2 - y^2}$ より

$$z_x = -\frac{x}{\sqrt{4 - x^2 - y^2}}, \quad z_y = -\frac{y}{\sqrt{4 - x^2 - y^2}}$$

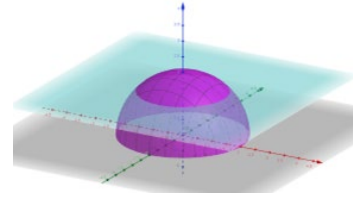
であるから、

求める曲面積 S は

$$\begin{aligned} S &= \iint_D \sqrt{\left(-\frac{x}{\sqrt{4 - x^2 - y^2}}\right)^2 + \left(-\frac{y}{\sqrt{4 - x^2 - y^2}}\right)^2 + 1} \, dx dy \\ &= \iint_D \frac{2}{\sqrt{4 - x^2 - y^2}} \, dx dy \end{aligned}$$

ここで $x = r \cos \theta$, $y = r \sin \theta$ とおくと、 $E = \{(x, y) \mid 0 \leq r \leq \sqrt{2}, 0 \leq \theta \leq 2\pi\}$ が対応する。

$$\begin{aligned} S &= 2 \int_0^{2\pi} d\theta \int_0^{\sqrt{2}} \frac{r}{\sqrt{4 - r^2}} \, dr = 4\pi \left[-\sqrt{4 - r^2}\right]_0^{\sqrt{2}} \\ &= \underline{\underline{4\pi(2 - \sqrt{2})}} \end{aligned}$$



キャンパス・ゼミ 微分積分 P.239 演習問題 35

(12) 曲面 $z = \frac{4}{3}x^{\frac{3}{2}} + \frac{4}{3}y^{\frac{3}{2}}$ ($0 \leq x \leq 1$, $0 \leq y \leq 1$) の面積

$$z_x = 2\sqrt{x}, \quad z_y = 2\sqrt{y}$$

であるから、求める曲面積 S は

$$\begin{aligned} S &= \iint_D \sqrt{(2\sqrt{x})^2 + (2\sqrt{y})^2 + 1} \, dx dy = \int_0^1 dy \int_0^1 \sqrt{4x + 4y + 1} \, dx \\ &= \int_0^1 dy \left[\frac{1}{6} (4x + 4y + 1)^{\frac{3}{2}} \right]_0^1 = \frac{1}{6} \int_0^1 \left\{ (4y + 5)^{\frac{3}{2}} - (4y + 1)^{\frac{3}{2}} \right\} dy \\ &= \frac{1}{6} \left[\frac{1}{10} \left\{ (4y + 5)^{\frac{5}{2}} - (4y + 1)^{\frac{5}{2}} \right\} \right]_0^1 = \frac{1}{60} \left\{ (3^{\frac{5}{2}} - 5^{\frac{5}{2}}) - (5^{\frac{5}{2}} - 1) \right\} \\ &= \frac{1}{60} \left(244 - 2 \cdot 5^{\frac{5}{2}} \right) = \underline{\underline{\frac{1}{30} \left(122 - 5^{\frac{5}{2}} \right)}} \end{aligned}$$